



Nom : _____

SCOOP!

Date : _____



Les talons des éléphants



Source du vidéo

Lis les questions, regarde le reportage et réponds aux questions.

1- Qu'est-ce que l'humain possède d'identique à l'éléphant?

2- Combien de kilomètres par jour peut parcourir un éléphant d'Afrique?

3- Combien de paires de chaussures useriez-vous si vous parcouriez la même distance qu'un éléphant dans une année?

4- Pourquoi dit-on que l'éléphant a un système de suspension particulier?

5- Qu'est-ce que l'on retrouve dans les talons des éléphants?


6- Comment fonctionne le talon aiguille intégré dans les talons des éléphants?

7- Que se passe-t-il avec le 6ème orteil de l'éléphant lorsqu'il grandit?


Nom : _____

SCOOP!

Date : _____



Les talons des éléphants



Source du vidéo

Dessine le croquis du bème orteil de l'éléphant.